



PREFEITURA MUNICIPAL DE RIBEIRÃO CORRENTE
DEPARTAMENTO DE EDUCAÇÃO
E.M.E.B. "JORNALISTA GRANDUQUE JOSÉ"

Rua Marechal Deodoro, 815 – Bairro Centro – Ribeirão Corrente - SP. CEP: 14445-000 - Fone: (16) 3749.1017
Ato de Criação: Lei Municipal Nº 986, de 20 de março de 2008
Email - granduquejose@educacao.sp.gov.br

ESTUDO EM CASA – DISTANCIAMENTO SOCIAL – COVID 19

TRABALHO DE GEOMETRIA – 9º ANO A e B - 1º BIMESTRE

Prof.ª GABRIELA PIMENTA BARBOSA MENDES

Prof.ª DRIELY

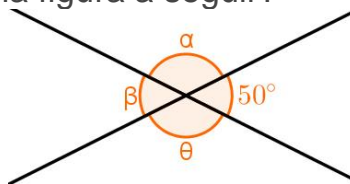
Orientações:

- **Deve constar no trabalho nome completo, série “ano” e professora, sob pena de não ser corrigido** por falta de informações indispensáveis para a correção do mesmo;
- O trabalho **deve ser devolvido** até dia **16/04/2021** na escola;
- Ele irá compor a nota do 1º bimestre. E a não realização acarretará em dano considerável a nota do aluno.

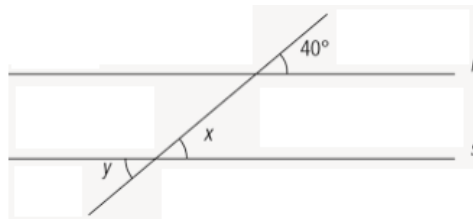
Nome: _____ 9º ano _____

Professora: () Driely ou () Gabriela

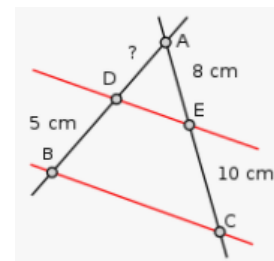
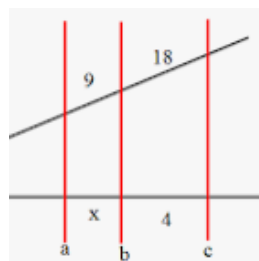
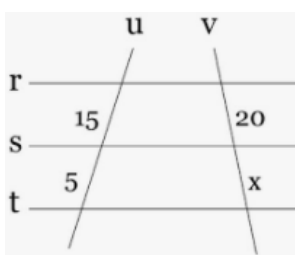
1) Sabendo que o ângulo abaixo em sua totalidade vale 360° e um deles está indicando 50° . Qual é a medida de cada **ângulo** na figura a seguir?



2) Qual a medida do ângulo x e y ?



3) Determine a medida x indicada na imagem?

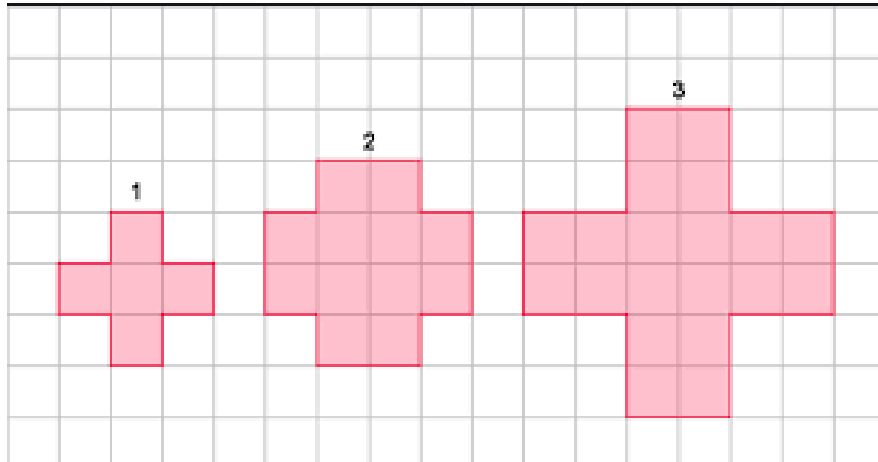




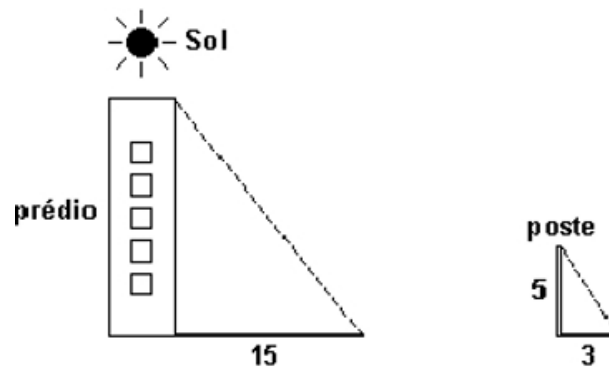
PREFEITURA MUNICIPAL DE RIBEIRÃO CORRENTE
DEPARTAMENTO DE EDUCAÇÃO
E.M.E.B. "JORNALISTA GRANDUQUE JOSÉ"

Rua Marechal Deodoro, 815 – Bairro Centro – Ribeirão Corrente - SP. CEP: 14445-000 - Fone: (16) 3749.1017
Ato de Criação: Lei Municipal Nº 986, de 20 de março de 2008
Email - granduquejose@educacao.sp.gov.br

4) Na malha quadriculada abaixo, temos duas figuras semelhantes. Quais são elas ? Dê a definição de figuras semelhantes?



5) Sabendo que as figuras abaixo são semelhantes. Encontre a altura do prédio.



Bons estudos!!!